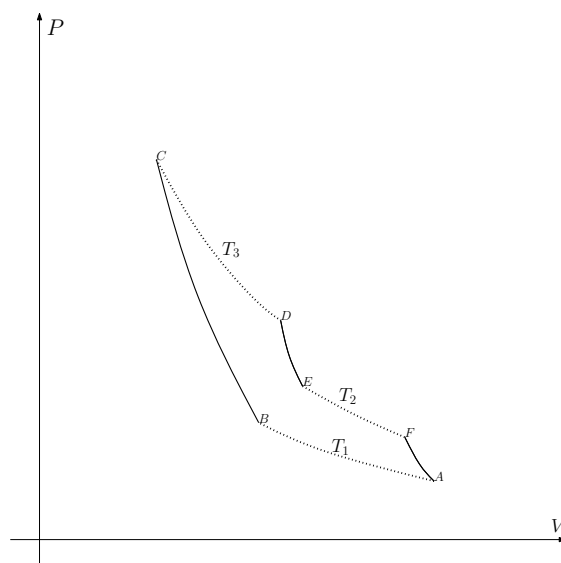


7.6. 28 maggio 2013

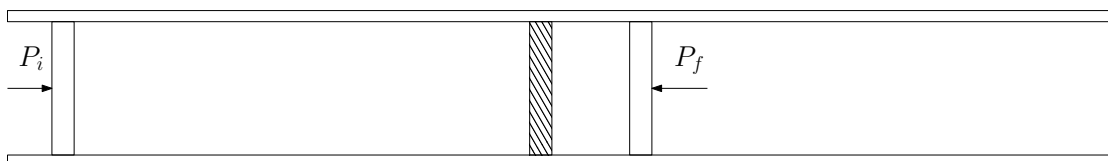
Problema 1 (15 punti)



Si esegue su una mole di un gas perfetto monoatomico la trasformazione ciclica reversibile rappresentata in figura nel piano $P - V$. Il ciclo è composto dalle tre trasformazioni adiabatiche BC , DE , FA (linea continua) e dalle tre isoterme AB , CD , EF (linea punteggiata). Si conoscono le tre temperature $T_1 < T_2 < T_3$ e si conoscono le entropie S_A e $S_B < S_A$ degli stati A e B

1. Rappresentare il ciclo nel piano $T - S$, per un valore generico dell'entropia dello stato D nell'intervallo $S_B \leq S_D \leq S_A$
2. Per quale valore di S_D il rendimento del ciclo è massimo?
3. Calcolare il rendimento del ciclo in funzione delle tre temperature e della variabile $x = (S_D - S_B) / (S_A - S_B)$.

Problema 2 (15 punti)



Il cilindro in figura è diviso in due parti da un setto poroso. Il cilindro è poi chiuso ai due estremi da due pistoni mobili. Pistoni e cilindro sono impermeabili al calore. Il pistone di sinistra è sottoposto ad una pressione esterna costante P_i , quello di destra ad una pressione esterna anche essa costante $P_f < P_i$. Inizialmente una mole di un gas non ideale caratterizzato dalla equazione di stato

$$P = \frac{RT}{V} \left(1 + \frac{\beta}{V} \right)$$

con $\beta > 0$ e dalla energia interna

$$U = c_V T$$

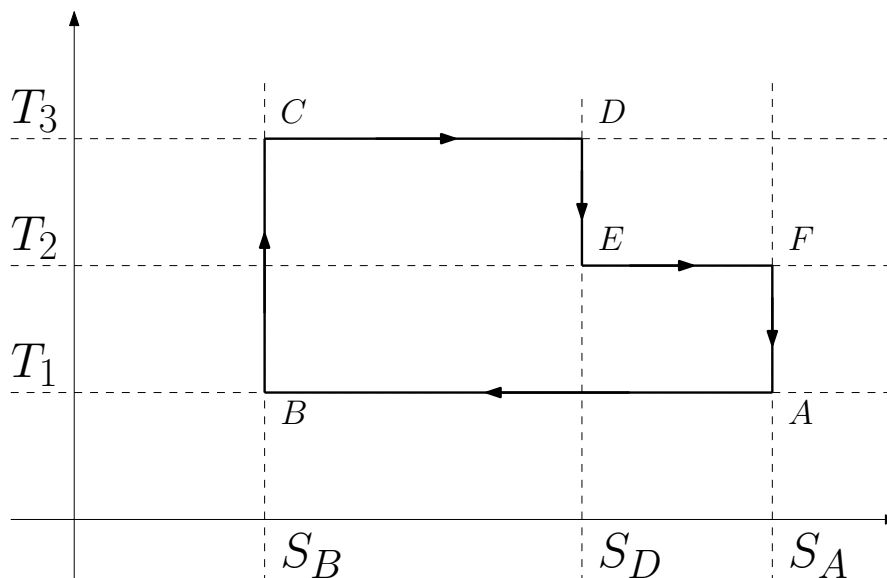
si trova interamente nello scomparto di sinistra. Il setto è sigillato, ed il gas è in equilibrio alla temperatura T_i .

1. Calcolare il volume iniziale del gas.
2. Determinare l'espressione generale dell'entalpia del gas considerato, ed esprimerla in funzione di P e T .
3. Si toglie il sigillo al setto, permettendo al gas di attraversarlo. Calcolare la sua temperatura nello stato finale di equilibrio, assumendo che β sia abbastanza piccolo da poter trascurare effetti $O(\beta^2)$. Può essere utile ricordare l'approssimazione valida per $x \ll 1$ $\sqrt{1+x} = 1 + x/2 + O(x^2)$.

Soluzione primo problema

Prima domanda

Nel piano $T - S$ le adiabatiche sono rette verticali, le isoterme rette orizzontali. La rappresentazione del ciclo è quindi la seguente



Seconda domanda

Il rendimento massimo si ottiene per $S_D = S_A$, in questo caso infatti ci riduciamo a un ciclo di Carnot tra le temperature estreme T_1 e T_3 .

Terza domanda

Tenuto conto che il lavoro compiuto dal sistema è l'area all'interno del ciclo, e il calore assorbito quella sotto la spezzata CDE , possiamo scrivere l'efficienza nella forma

$$\begin{aligned}\eta &= \frac{T_3(S_D - S_B) + T_2(S_A - S_D) - T_1(S_A - S_B)}{T_3(S_D - S_B) + T_2(S_A - S_D)} \\ &= 1 - \frac{T_1(S_A - S_B)}{(T_3 - T_2)S_D + T_2S_A - T_3S_B} \\ &= 1 - \frac{T_1(S_A - S_B)}{T_3(S_D - S_B) + T_2(S_A - S_B + S_B - S_D)} \\ &= 1 - \frac{T_1}{xT_3 + (1-x)T_2}\end{aligned}$$

L'efficienza massima nell'intervallo considerato si ottiene per $x = 1$, come nella prima domanda. Quella minima per $x = 0$.

Soluzione secondo problema

Prima domanda

Dall'equazione di stato abbiamo

$$P_i = \frac{RT_i}{V_i} \left(1 + \frac{\beta}{V_i}\right)$$

$$\frac{1}{V_i^2} + \frac{1}{\beta V_i} - \frac{P_i}{\beta RT_i} = 0$$

e risolvendo per $\frac{1}{V_i}$ troviamo

$$\frac{1}{V_i} = -\frac{1}{2\beta} + \sqrt{\frac{1}{4\beta^2} + \frac{P_i}{\beta RT_i}}$$

Seconda domanda

Dalla definizione di entalpia abbiamo

$$\begin{aligned}H &= U + PV = c_V T + RT \left(1 + \frac{\beta}{V}\right) \\ &= \left(c_V + \frac{R}{2}\right) T + RT \sqrt{\frac{1}{4} + \frac{\beta P}{RT}}\end{aligned}$$

Terza domanda

Dal primo principio abbiamo

$$U_f - U_i = P_i V_i - P_f V_f$$

e quindi $H_i = H_f$. Usando l'espressione determinata precedentemente otteniamo

$$\left(c_v + \frac{R}{2}\right) T_i + RT_i \sqrt{\frac{1}{4} + \frac{\beta P_i}{RT_i}} = \left(c_v + \frac{R}{2}\right) T_f + RT_f \sqrt{\frac{1}{4} + \frac{\beta P_f}{RT_f}}$$

che sarebbe possibile risolvere esplicitamente in T_f . Trascurando termini $O(\beta^2)$ si può approssimare l'espressione precedente nella forma

$$(c_v + R) T_i + \beta P_i = (c_v + R) T_f + \beta P_f$$

da cui

$$T_f = T_i + \frac{\beta}{c_v + R} (P_i - P_f)$$

e quindi la temperatura aumenta.