

Corso di Laurea Ing. EA – PROVA DI VERIFICA n. 3 - 19/5/2006

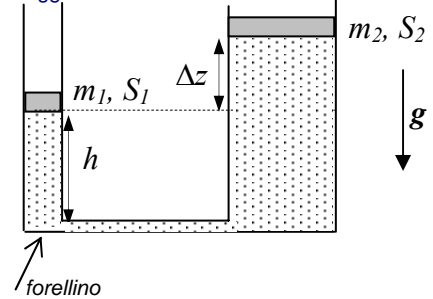
Nome e cognome:

Matricola:

Istruzioni: riportate i risultati, sia letterali che numerici, se richiesti, in questo foglio; allegare "brutte copie" o altri documenti che ritenete utili. **Le risposte non adeguatamente giustificate non saranno prese in considerazione**

3. Un liquido incompressibile, di densità di massa $\rho_M = 2.0 \times 10^3 \text{ Kg/m}^3$ e viscosità trascurabile, è contenuto in un recipiente cilindrico di sezione $S_1 = 1.0 \times 10^2 \text{ cm}^2$; il recipiente è dotato di un tappo scorrevole (senza attrito) di massa $m_1 = 20 \text{ Kg}$, posto a contatto con la pressione atmosferica $P_{ATM} = 1.0 \times 10^5 \text{ Pa}$. Il tappo si trova ad un'altezza $h = 20 \text{ cm}$ rispetto alla base del recipiente, che è collegato, tramite un sottile tubicino, ad un altro recipiente cilindrico, di sezione $S_2 = 50 \text{ cm}^2$, dotato di un tappo scorrevole (senza attrito) di massa $m_2 = 5.0 \text{ Kg}$. La figura rappresenta una visione schematica del sistema.

Attenzione: come comunicato durante lo svolgimento della prova, la figura suggerisce erroneamente che $S_1 < S_2$



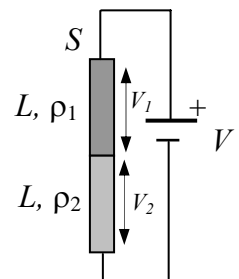
a) In condizioni di equilibrio, quanto vale la differenza Δz tra le quote dei due tappi?

$\Delta z = \dots\dots\dots = \dots\dots \text{ m}$

b) Ad un dato istante si pratica un foro alla base di uno dei due recipienti, ad esempio nel punto indicato con una freccia in figura; il liquido comincia allora ad uscire, con una certa velocità v . Supponendo che il foro sia **piccolo** (cioè che il livello del liquido scenda **lentamente**), quanto vale v ? [Nella soluzione, potete benissimo trascurare la presenza dell'altro recipiente, che non fa effetto; inoltre usate il valore $g = 9.8 \text{ m/s}^2$ per il modulo dell'accelerazione di gravità, diretta ovviamente "verso il basso", come in figura]

$v = \dots\dots\dots \sim \dots\dots \text{ m/s}$

2. Avete due bacchette cilindriche, entrambe di sezione $S = 1.0 \text{ cm}^2$ e lunghezza $L = 10 \text{ cm}$. Le due bacchette sono conduttrici: la prima è fatta di un materiale con resistività elettrica $\rho_1 = 10 \times 10^{-5} \text{ ohm m}$, e l'altra di un materiale con $\rho_2 = 50 \times 10^{-5} \text{ ohm m}$. Le due bacchette sono unite "faccia a faccia" e collegate ad un generatore (ideale) di differenza di potenziale $V = 6.0 \text{ V}$ come indicato in figura, il quale fa scorrere della corrente "nel sistema" delle due bacchette. [Rispondete a tutte le domande del problema supponendo di aver raggiunto condizioni di **equilibrio**]



a) Quanto valgono i moduli delle **densità di corrente** j_1 e j_2 nelle due bacchette? [Ricordatevi della definizione di queste grandezze e supponete, ragionevolmente, che la corrente fluisca **uniformemente** all'interno di ciascuna bacchetta, con direzione lungo l'asse delle bacchette stesse]

$j_1 = \dots\dots\dots = \dots\dots \text{ A/m}^2$

$j_2 = \dots\dots\dots = \dots\dots \text{ A/m}^2$

b) Quanto valgono le differenze di potenziale V_1 e V_2 ai capi delle due bacchette (vedi figura)?

$V_1 = \dots\dots\dots = \dots\dots \text{ V}$

$V_2 = \dots\dots\dots = \dots\dots \text{ V}$

c) Quanto vale, se c'è, la densità di carica superficiale σ all'interfaccia tra le due bacchette (cioè sulla superficie di contatto)? [Supponete che i materiali delle bacchette abbiano entrambi la costante dielettrica del vuoto, $\epsilon_0 = 8.8 \times 10^{-12} \text{ F/m}$, e fate attenzione a determinare i campi rilevanti]

$\sigma = \dots\dots\dots = \dots\dots \text{ C/m}^2$

3. Una sfera dielettrica di raggio $a = 10$ cm è stata caricata in modo **non omogeneo** e risulta dotata di una densità di carica volumica $\rho(r) = \rho_0 a/r$, con ρ_0 costante (da determinare). [Supponete ovviamente di poter trascurare la divergenza di questa funzione per $r \rightarrow 0$]

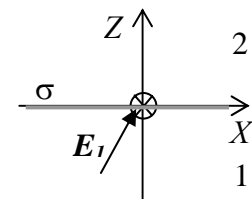
a) Sapendo che la **superficie della sfera** (cioè i punti che si trovano a distanza a dal centro) sono ad un potenziale $\phi = 10$ V, quanto vale ρ_0 ? [Usate il valore $\epsilon_0 = 8.8 \times 10^{-12}$ F/m per la costante dielettrica del vuoto; se non riuscite a rispondere a questa domanda, provate ad andare avanti lasciando indicato il valore ρ_0]

$$\rho_0 = \dots\dots\dots = \dots\dots\dots \text{ C/m}^3$$

b) Come si esprime il modulo del campo elettrico $E(r)$ all'interno della sfera, cioè per $0 < r < a$? [Supponete che anche all'interno della sfera la costante dielettrica valga ϵ_0]

$$E(r) = \dots\dots\dots$$

4. Sul piano XY avete una carica distribuita superficialmente con una densità costante σ . Nel semispazio $z < 0$ misurate un campo elettrico che ha componenti E_{1X} , E_{1Z} come in figura. [Attenzione: in questo problema non sono presenti dati numerici! Esprimete la costante dielettrica del vuoto con ϵ_0]



a) Come si scrivono le componenti E_{2X} ed E_{2Z} del campo elettrico che si trova nel semispazio $z > 0$? [Suggerimento: usate opportunamente le condizioni sul campo elettrostatico stabilite da Gauss e circuitazione...]

$$E_{2X} = \dots\dots\dots$$

$$E_{2Z} = \dots\dots\dots$$

b) Come si scrive la differenza di potenziale $V = \phi(a) - \phi(-a)$ tra due punti collocati sull'asse Z nei punti rispettivamente a e $-a$?

$$V = \dots\dots\dots$$

Nota: acconsento che l'esito della prova venga pubblicato sul sito web del docente, <http://www.df.unipi.it/~fuso/dida>, impiegando come nominativo le ultime quattro cifre del numero di matricola, oppure il codice: | | | | (4 caratteri alfanumerici).
Pisa, 19/5/2006 Firma:

Corso di Laurea Ing. EA – PROVA DI VERIFICA n. 3 - 19/5/2006

Nome e cognome:

Matricola:

Istruzioni: riportate i risultati, sia letterali che numerici, se richiesti, in questo foglio; allegare "brutte copie" o altri documenti che ritenete utili. **Le risposte non adeguatamente giustificate non saranno prese in considerazione**

1. Un fluido ideale (incomprimibile e non viscoso), di densità di massa $\rho_M = 4.0 \times 10^3 \text{ Kg/m}^3$, scorre in condizioni stazionarie all'interno di un condotto di sezione non uniforme. Sapete che il fluido riempie una vasca di volume $V = 1.0 \text{ m}^3$ in un tempo $\Delta t = 200 \text{ s}$.

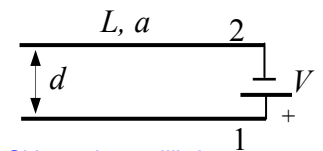
- a) Quanto vale la velocità v_1 del fluido in un punto in cui il condotto ha sezione $S_1 = 5.0 \text{ cm}^2$?

$$v_1 = \dots\dots\dots = \dots\dots \text{ m/s}$$

- b) Sapendo che, nel punto del condotto di cui all'esercizio precedente, la pressione del fluido vale $P_1 = 2.0 \times 10^5 \text{ Pa}$, quanto vale la pressione P_2 in un altro punto del condotto in cui la sezione è $S_2 = 10 \text{ cm}^2$? [Considerate un condotto **orizzontale**, tale cioè che la quota del fluido rimane costante]

$$P_2 = \dots\dots\dots = \dots\dots \text{ Pa}$$

2. Avete due lunghi e sottili fili elettrici circolari, di raggio $a = 1.0 \text{ mm}$ e **resistenza trascurabile**, posti parallelamente a distanza $d = 1.0 \text{ cm}$ l'uno rispetto all'altro. I due fili sono collegati ad un generatore ideale di differenza di potenziale $V = 100 \text{ V}$; la figura rappresenta una visione schematica del sistema. [Rispondete a tutte le domande del problema supponendo di aver raggiunto condizioni di **equilibrio**; inoltre tenete conto della simmetria dovuta al fatto che i fili sono lunghi e sottili; usate $\epsilon_0 = 8.8 \times 10^{-12} \text{ F/m}$ per la costante dielettrica del vuoto]



Si intende equilibrio "elettrico"!

- a) Sapendo che la lunghezza dei fili è $L = 1.0 \text{ m}$, quanto vale la carica Q che si distribuisce sul filo 1 (quello in basso in figura, collegato con il polo positivo del generatore)? [Suggerimento: valutate l'espressione del campo generato da questo filo e considerate attentamente i dati del problema; può farvi comodo ricordare che $\int (1/r) dr = \ln(r)$]

$$Q = \dots\dots\dots \sim \dots\dots \text{ C}$$

- b) Che direzione e verso ha e quanto vale, se c'è, la forza di natura elettrica F che si esercita fra i due fili?

Direzione e verso:

$$F = \dots\dots\dots \sim \dots\dots \text{ N}$$

3. Una lastra di superficie $S = 30 \text{ cm}^2$ e spessore $d = 1.0 \text{ mm}$, quindi molto estesa e sottile da poterla considerare come un sistema a simmetria **piana**, è disposta in modo da avere la faccia "inferiore" poggiata sul piano XY di un sistema di riferimento. La lastra, che è fatta di materiale **dielettrico**, è stata caricata in modo **non omogeneo**, così da avere una densità di carica volumica dipendente dalla quota z secondo la legge $\rho(z) = \rho_0 z^2/d^2$, con ρ_0 costante da determinare.

- a) Sapendo che la carica totale contenuta nella lastra vale $Q = 1.0 \times 10^{-12} \text{ C}$, quanto vale la costante ρ_0 ? [Può farvi comodo ricordare che, per una variabile generica ξ , si ha $\int \xi^n d\xi = \xi^{n+1}/(n+1)$; se non riuscite a determinare ρ_0 , provate ad andare avanti lasciando indicato il parametro]

$$\rho_0 = \dots\dots\dots = \dots\dots \text{ C/m}^3$$

- b) Quanto vale la differenza di potenziale $V = \phi(d) - \phi(0)$ tra la faccia "superiore" ($z=d$) e quella "inferiore" ($z=0$) della lastra? [Supponete che nel semispazio $z \leq 0$ il campo sia nullo e che la costante dielettrica all'interno della lastra sia quella del vuoto, $\epsilon_0 = 8.8 \times 10^{-12} \text{ F/m}$]

$$V = \dots\dots\dots \sim \dots\dots \text{ V}$$

c) Avete ora una particella positiva di **dimensioni trascurabili** che si avvicina alla lastra provenendo dal “di sopra” e muovendosi lungo l’asse Z (nel suo verso negativo). Sapendo che la massa della particella è $m = 1.0 \times 10^{-24}$ Kg e che il valore della sua carica è $q = 1.0 \times 10^{-13}$ C, quanto deve valere il modulo della velocità con cui essa incide sulla faccia “superiore” della lastra affinché possa uscire dalla faccia “inferiore” con velocità nulla? [Trascurate gli effetti della gravità e, a causa delle piccole dimensioni della particella, tutti i fenomeni di urto “meccanico” tra essa e il materiale di cui è costituita la lastra; considerate cioè solo l’interazione con il campo elettrico nella lastra!]

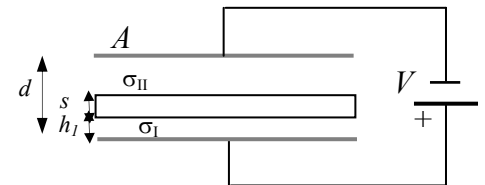
$v = \dots \dots \dots \sim \dots \dots \dots$ m/s

4. Due sottili lamine conduttrici di spessore **trascurabile** ed area $A = 1.0 \text{ m}^2$ sono poste parallelamente l’un l’altra ad una distanza pari a $d = 10 \text{ cm}$. Ad un dato istante, le due lamine, che inizialmente erano **scariche**, vengono collegate ad un generatore ideale di differenza di potenziale $V_0 = 100 \text{ V}$. [Usate il valore $\epsilon_0 = 8.8 \times 10^{-12} \text{ F/m}$ per la costante dielettrica del vuoto e supponete che le dimensioni del sistema siano tali da poter trascurare gli effetti ai bordi]

a) Quanto vale il lavoro L fatto dal generatore per portare il sistema all’equilibrio (cioè perché le cariche elettriche si distribuiscano in modo opportuno sulle lamine)?

$L = \dots \dots \dots = \dots \dots \dots$ J

b) Supponete ora che nello spazio (vuoto) tra le lamine venga posta una lastra conduttrice **scarica**, di area A identica a quella delle lamine e spessore $s = 2.0 \text{ cm}$. La configurazione è descritta schematicamente in figura, da cui si vede che la lastra si trova ad una distanza $h_1 = 1.0 \text{ cm}$ dalla lamina “inferiore”. Quanto valgono, all’equilibrio, le densità di carica superficiale σ_I e σ_{II} sulle due facce della lastra indicate in figura (rispettivamente quella inferiore e superiore, nel disegno)?



$\sigma_I = \dots \dots \dots = \dots \dots \dots$ C/m²

$\sigma_{II} = \dots \dots \dots = \dots \dots \dots$ C/m²

Nota: acconsento che l’esito della prova venga pubblicato sul sito web del docente, <http://www.df.unipi.it/~fuso/dida>, impiegando come nominativo le ultime quattro cifre del numero di matricola, oppure il codice: | | | | (4 caratteri alfanumerici).
Pisa, 19/5/2006 Firma: