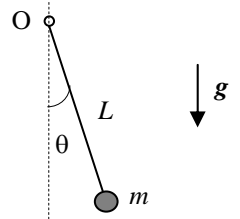


Nome e cognome:

Matricola:

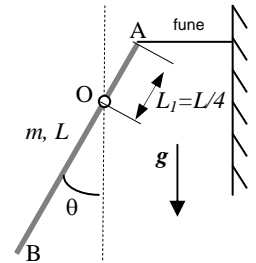
Istruzioni: **riportate i risultati, sia letterali che numerici, se richiesti, in questo foglio; allegare "brutte copie" o altri documenti che ritenete utili.** Le risposte non adeguatamente giustificate non saranno prese in considerazione

1. Un "pendolo" è costituito da una massa puntiforme m attaccata a un filo inestensibile e di massa trascurabile, che ha lunghezza L . Il filo è inchiodato in un punto fisso (indicato con O in figura) e la massa è libera di muoversi su un piano verticale con attrito trascurabile. Inizialmente la massa viene portata a una posizione tale che l'angolo θ misurato rispetto alla verticale (vedi figura) vale $\theta_0 = \pi/3$. A un dato istante la massa viene lasciata libera di muoversi a partire da questa posizione iniziale, avendo velocità iniziale nulla. [Ricordate che $\cos(\pi/3) = 1/2$ e $\sin(\pi/3) = \sqrt{3}/2$, con $\sqrt{3} \sim 1.73$]



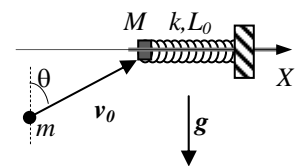
- a) Come si scrive la **funzione** $v(\theta)$ che esprime il modulo della velocità della massa in funzione dell'angolo θ **generico**? [Non usate valori numerici!]
 $v(\theta) = \dots\dots\dots$
- b) Come si scrive la **funzione** $T(\theta)$ che esprime il modulo della tensione della fune in funzione dell'angolo θ generico? [Non usate valori numerici!]
 $T(\theta) = \dots\dots\dots$
- c) Supponendo ora che $m = 1.0$ kg e $L = 0.50$ m, quanto vale il modulo massimo T_{MAX} della tensione della fune durante il processo di discesa? [Usate $g = 9.8$ m/s²]
 $T_{MAX} = \dots\dots\dots = \dots\dots$ N

2. Una sottile asta omogenea di lunghezza $L = 20$ cm e massa $m = 1.0$ kg è impernata in modo da poter ruotare con attrito trascurabile su un piano verticale. Come rappresentato in figura, il perno (indicato con O) si trova a distanza $L_1 = L/4$ da una delle estremità dell'asta, quella indicata con A. Su questa stessa estremità è agganciata una fune inestensibile di massa trascurabile che dall'altra parte è inchiodata a una parete verticale (la fune è tesa in direzione orizzontale). L'angolo tra asse dell'asta e verticale vale $\theta = \pi/6$ e nelle condizioni descritte l'asta è in **equilibrio**. [Usate $g = 9.8$ m/s² per il modulo dell'accelerazione di gravità. Ricordate che $\sin(\pi/6) = 1/2$ e $\cos(\pi/6) = \sqrt{3}/2$, con $\sqrt{3} \sim 1.73$]



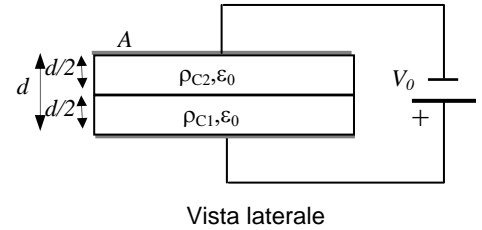
- a) Quanto vale il modulo della tensione T che la fune esercita sull'asta nel punto A? Quanto vale, **in modulo**, la forza F che il perno esercita sull'asta nel punto O?
 $T = \dots\dots\dots \sim \dots\dots$ N
 $F = \dots\dots\dots \sim \dots\dots$ N
- b) Supponete ora che, ad un dato istante, la fune venga improvvisamente tagliata: l'asta prende allora a ruotare nel verso antiorario di figura. Quanto vale, subito dopo il taglio, il modulo dell'accelerazione a_A e a_B dei due estremi A e B dell'asta indicati in figura? [Attenti: si chiede l'accelerazione dei punti A e B, non l'accelerazione angolare...]
 $a_A = \dots\dots\dots = \dots\dots$ m/s²
 $a_B = \dots\dots\dots = \dots\dots$ m/s²

3. Un manicotto di massa $M = 1.0$ kg è vincolato da una guida (un tondino rigido e fisso su cui è infilato) a muoversi con **attrito trascurabile** in direzione orizzontale (asse X di figura). Al manicotto è saldata una molla di massa trascurabile e costante elastica $k = 4.0$ N/m il cui altro estremo è fissato a una parete rigida verticale. Inizialmente la molla si trova alla propria lunghezza di riposo L_0 e il manicotto è fermo. A un dato istante il manicotto viene colpito da una pallina di massa $m = M/4 = 0.25$ kg che incide sul manicotto avendo una velocità di modulo $v_0 = 3.0$ m/s diretta in direzione obliqua: l'angolo del vettore v_0 rispetto alla verticale vale $\theta = \pi/3$. L'urto tra pallina e manicotto è sicuramente **non anelastico**. In seguito all'urto il manicotto si mette in movimento e la molla viene compressa fino a raggiungere la **massima compressione** $\Delta_{MAX} = 0.20$ m. [State attenti a considerare bene la successione degli eventi: "prima" l'urto e "poi" la compressione della molla...; il dato di L_0 non è noto numericamente, ma questo non dovrebbe creare problemi! Ricordate che $\cos(\pi/3) = 1/2$ e $\sin(\pi/3) = \sqrt{3}/2$, con $\sqrt{3} \sim 1.73$]



- a) Quanto valeva, **subito dopo l'urto**, il modulo della velocità V' del manicotto?
 $V' = \dots\dots\dots = \dots\dots$ m/s
- b) Quanto valeva, **subito dopo l'urto**, la **componente orizzontale** v'_X della velocità della pallina? [Usate il riferimento cartesiano indicato in figura]
 $v'_X = \dots\dots\dots = \dots\dots$ m/s

4. Un condensatore ad armature piane e parallele è formato da due dischi circolari sottili di materiale ottimo conduttore aventi area $A = 10 \text{ cm}^2$ affacciati l'un l'altro a distanza $d = 4.0 \text{ mm}$. Lo spazio fra le due armature è riempito da due cilindri (molto schiacciati!) con base di area coincidente con quelle dei dischi e altezza $d' = d/2 = 2.0 \text{ mm}$. I due cilindri sono fatti di due diversi materiali **debolmente conduttori**, con resistività rispettivamente $\rho_{C1} = \rho_C = 1.0 \times 10^5 \text{ ohm m}$ e $\rho_{C2} = 4\rho_C = 4.0 \times 10^5 \text{ ohm m}$ (la costante dielettrica vale $\epsilon_0 = 8.8 \times 10^{-12} \text{ F/m}$ per tutti e due i materiali). Le armature del condensatore sono collegate a un generatore ideale di differenza di potenziale $V_0 = 1.0 \times 10^2 \text{ V}$ collegato come in figura (il polo positivo è sull'armatura "inferiore", che è a contatto con il materiale di resistività ρ_{C1}). [Supponete trascurabili gli "effetti ai bordi"]



- a) Quanto vale, in condizioni stazionarie, la potenza P fornita dal generatore?
 $P = \dots\dots\dots = \dots\dots\dots \text{ W}$
- b) Quanto vale, all'**equilibrio**, la carica elettrica Q che si trova (se ci si trova!) **all'interfaccia** tra i due materiali? [Spiegate bene, in brutta, tutti i ragionamenti che seguite!]
 $Q = \dots\dots\dots = \dots\dots\dots \text{ C}$
- c) Quanto valgono e che direzioni e verso hanno i campo magnetici $B_1(r)$ e $B_2(r)$ che si misurano **all'interno** dei due materiali ad una distanza r generica dall'asse del condensatore (la congiungente i centri dei due dischi)? [Supponete condizioni **stazionarie**; dato che dovete scrivere funzioni della variabile generica r , con r minore del raggio dei cilindri, **non** usate valori numerici per questa risposta, indicando i parametri **noti** del problema con la loro espressione letterale. Usate μ_0 per la permeabilità magnetica dei materiali, equivalente a quella del vuoto]
 Direzione e verso: $\dots\dots\dots$
 $B_1(r) = \dots\dots\dots$
 $B_2(r) = \dots\dots\dots$

----- **TERMODINAMICA (opzionale)**

Una certa quantità (incognita) di Elio, un gas monoatomico che può essere considerato perfetto, partecipa ad un ciclo termico composto dalla sequenza di trasformazioni **reversibili**: compressione isoterma $A \rightarrow B$, compressione isobara $B \rightarrow C$, espansione isoterma $C \rightarrow D$, compressione adiabatica $D \rightarrow A$. I dati noti del ciclo sono: $V_A = 9.00$ litri, $V_B = 2V_A/3$ e $V_C = V_B/4$. Si sa inoltre che l'espansione isoterma $C \rightarrow D$ avviene mantenendo il gas a contatto termico con un termostato costituito da un'enorme massa di acqua e ghiaccio fondente mescolati ed in equilibrio termico fra loro. [Usate $R = 8.31 \text{ J/(K mole)}$ per la costante dei gas perfetti]

- a) Quanto vale il volume V_D occupato dal gas nel punto D del ciclo?
 $V_D = \dots\dots\dots = \dots\dots\dots \text{ m}^3$
- b) Sapendo che nell'espansione isoterma $C \rightarrow D$ viene solidificata una massa $m = 100 \text{ g}$ di acqua (calore latente di fusione del ghiaccio $\lambda_F = 3.33 \times 10^5 \text{ J/kg}$), quanto vale il numero di moli n del gas Elio che partecipa alla trasformazione? [Può farvi comodo sapere che $\ln(48) \sim 3.87$]
 $n = \dots\dots\dots \sim \dots\dots\dots \text{ moli}$